

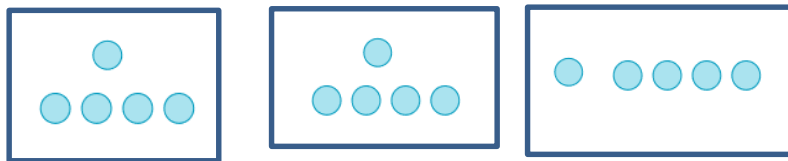
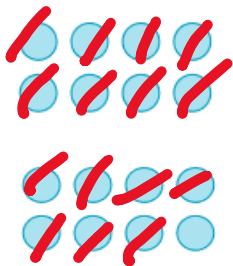
GUÍA 7 MATEMÁTICA
3° AÑO OCTUBRE 2021
AUTOEVALUACIÓN

NOMBRE: _____ CURSO: _____ FECHA: _____

Te invito a que revises la Guía 7 de Matemática, si te equivocaste en algo, lo puedes corregir.

Desarrolla con reparto y resta las siguientes divisiones:

Reparte 16 fichas en 3 grupos iguales



$$5 + 5 + 5 = 15$$

5 fichas en cada grupo.

$$3 \text{ VECES } 5 = 15$$

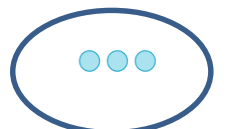
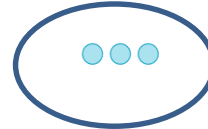
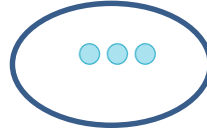
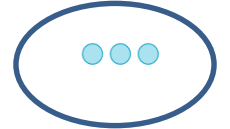
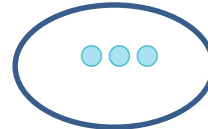
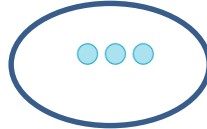
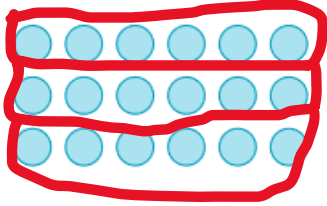
$$16 : 3 = 5$$

$$15 + 1 = 16$$

$$\begin{array}{r} \underline{16} \\ 15 \\ \hline 01 \end{array}$$

16	}	
- 3	}	restó 1 vez
13	}	
- 3	}	restó 2 veces
10	}	
- 3	}	restó 3 veces
7	}	
- 3	}	restó 4 veces
4	}	
- 3	}	restó 5 veces
1		

2).



$$3 + 3 + 3 + 3 + 3 + 3 = 18$$

$$6 \text{ VECES } 3 = 18$$

18 fichas repartidas en 6 grupos iguales.

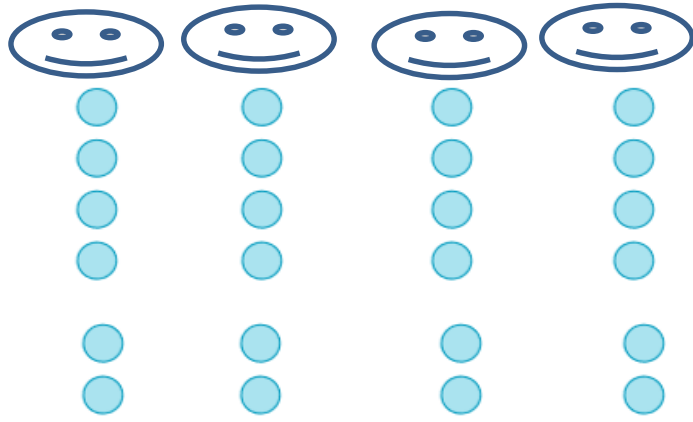
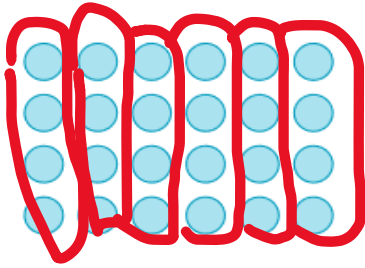
3 fichas en cada grupo.

$$18 : 6 = 3$$

$$\begin{array}{r} \underline{} \\ 18 \\ \hline 00 \end{array}$$

18	}	
- 6	}	restó 1 vez
12	}	
- 6	}	restó 2 veces
6	}	
- 6	}	restó 3 veces
0		

3).



$$6 + 6 + 6 + 6 = 24$$

$$4 \text{ VECES } 6 = 24$$

$$4 \times 6 = 24$$

24 fichas repartidas en 4 grupos iguales.

6 fichas en cada grupo.

$$24 : 4 = 6$$

24		
00		
24		restó 1 vez
- 4		
20		restó 2 veces
- 4		
16		restó 3 veces
- 4		
12		restó 4 veces
- 4		
8		restó 5 veces
- 4		
4		restó 6 veces
- 4		
0		