

GUÍA 5 HISTORIA, GEOGRAFÍA Y CIENCIAS SOCIALES
1º BÁSICO AGOSTO 2021

NOMBRE: _____ CURSO: _____ FECHA: _____

OBJETIVO: (OA 8) Reconocer que los mapas y planos son formas de representar lugares.

CONTENIDO: El plano.

ACTIVIDADES

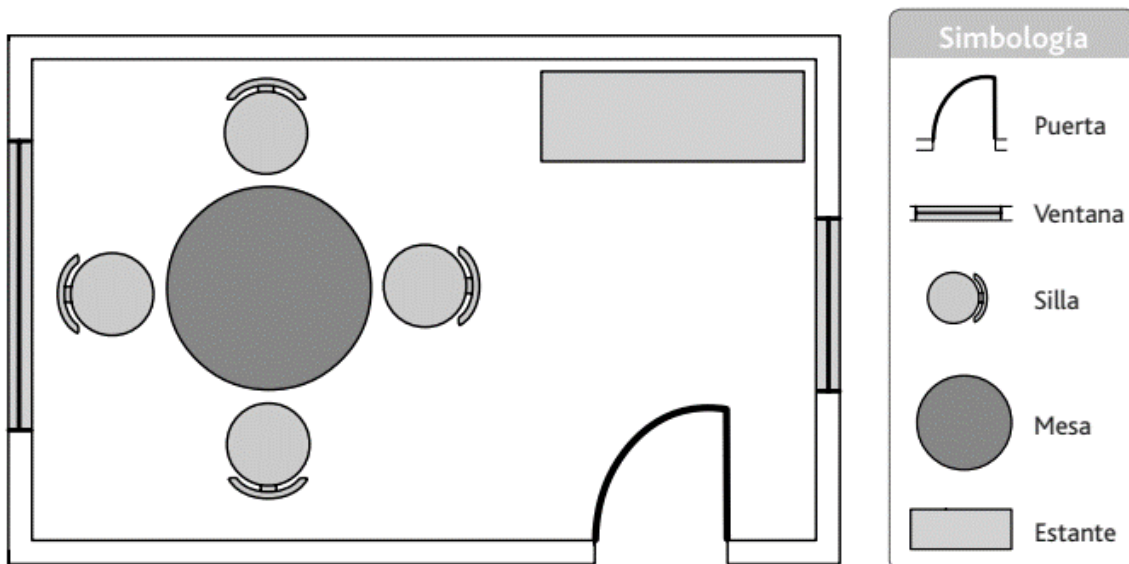
- Realiza la guía de trabajo con ayuda de algún familiar.
- Lee en voz alta el texto y las instrucciones. Más de una vez si es necesario.
- Completa las actividades de manera ordenada.
- Revisa tu trabajo al finalizar.

1. Escucha atentamente la lectura.

LOS PLANOS

Los planos son representaciones sencillas de lugares vistos desde arriba. Son dibujos de lugares relativamente pequeños como una habitación, casa, escuela, pueblo o ciudad. Cada plano tiene una simbología, los cuales son símbolos (formas) que permiten identificar cada objeto representado.

2. Observa el siguiente plano del comedor de una casa y responde.



a) ¿Cuántos símbolos tiene el plano del comedor?

b) ¿Cuántas personas pueden ocupar el comedor sentadas para almorzar?

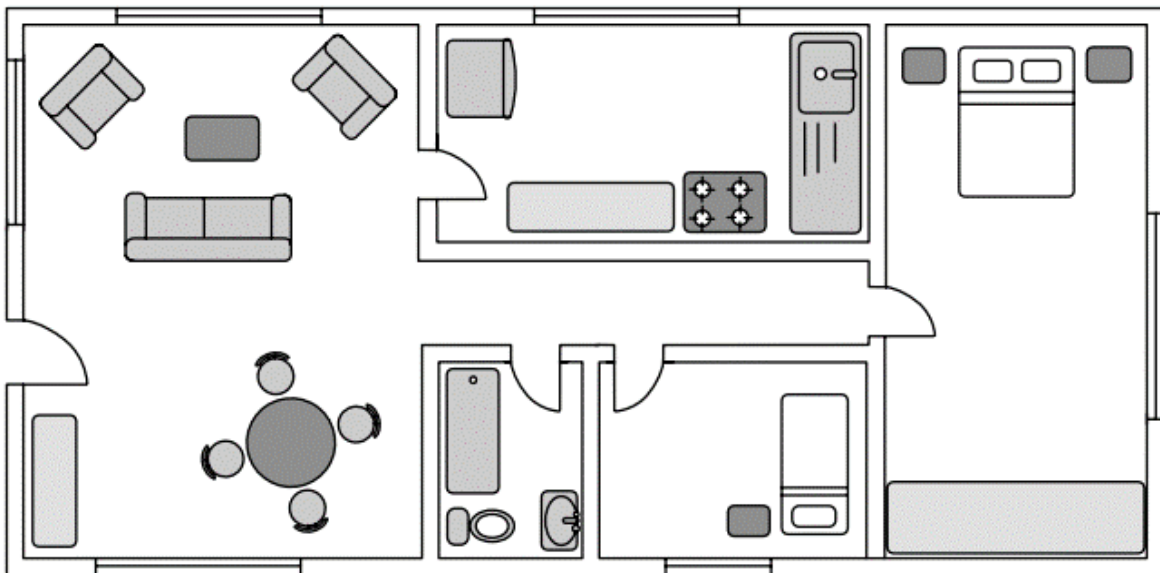
c) ¿Dónde está ubicado el estante del comedor? Marca con una X.

<input type="checkbox"/>	Al centro de la pieza.
--------------------------	------------------------

<input type="checkbox"/>	Al costado derecho.
--------------------------	---------------------

<input type="checkbox"/>	Al costado izquierdo.
--------------------------	-----------------------

3. Ahora observa el plano de una casa y responde.



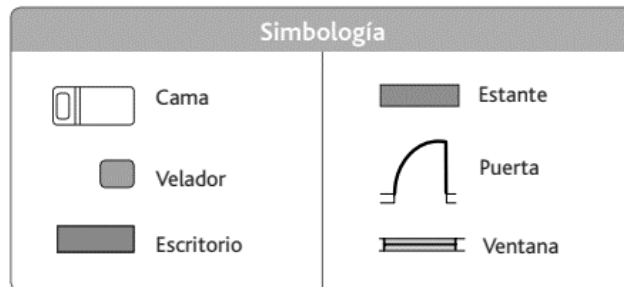

a) ¿Cuántos dormitorios tiene esta casa?

b) Nombra la pieza que se encuentra a la derecha del comedor:

c) Nombra la pieza que se encuentra a la izquierda de la cocina:


4. Dibuja el plano que represente tu dormitorio.

Plano de mi dormitorio



5. Ampliando conocimientos.

Realiza las actividades en tu texto del estudiante de Historia, Geografía y Ciencias Sociales, páginas 76 a 81.



¡Al finalizar, guarda esta guía en tu carpeta!