

**GUÍA 4 HISTORIA, GEOGRAFÍA Y CIENCIAS SOCIALES  
4º BÁSICO JUNIO 2021**

**AUTOEVALUACIÓN**

NOMBRE: \_\_\_\_\_ CURSO: \_\_\_\_\_ FECHA: \_\_\_\_\_



Querido /a Estudiante:

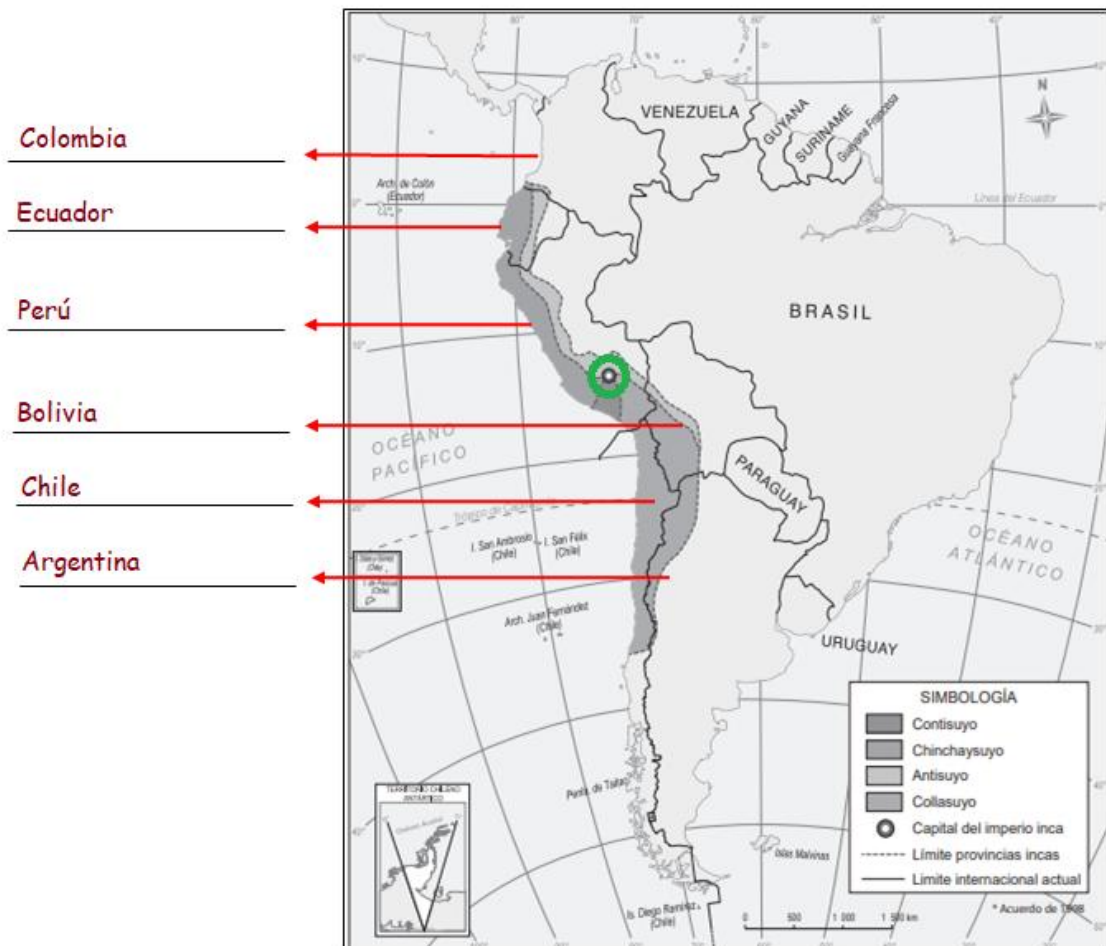
A continuación se muestran las respuestas correctas y/o esperadas de la Guía 4 de Historia, Geografía y Ciencias Sociales para que puedas revisar y comparar tu trabajo, corrigiendo si es necesario.

Recuerda que puedes repasar o reforzar los contenidos estudiados, apoyándote de tu texto de estudio o ingresando al link:

<https://mitextoescolar.mineduc.cl/>

**ACTIVIDADES**

- Observa el siguiente mapa físico de América del Sur y sigue las instrucciones.
  - Lee atentamente la simbología que aparece en el mapa y encierra con un círculo de color verde el Cusco.
  - Escribe los nombres de los países que, actualmente, ocupan el territorio que abarcó el Imperio Inca.



- Coloca V (verdadero) o F (falso) según corresponda.

V El Cusco fue la capital de la Civilización Inca.

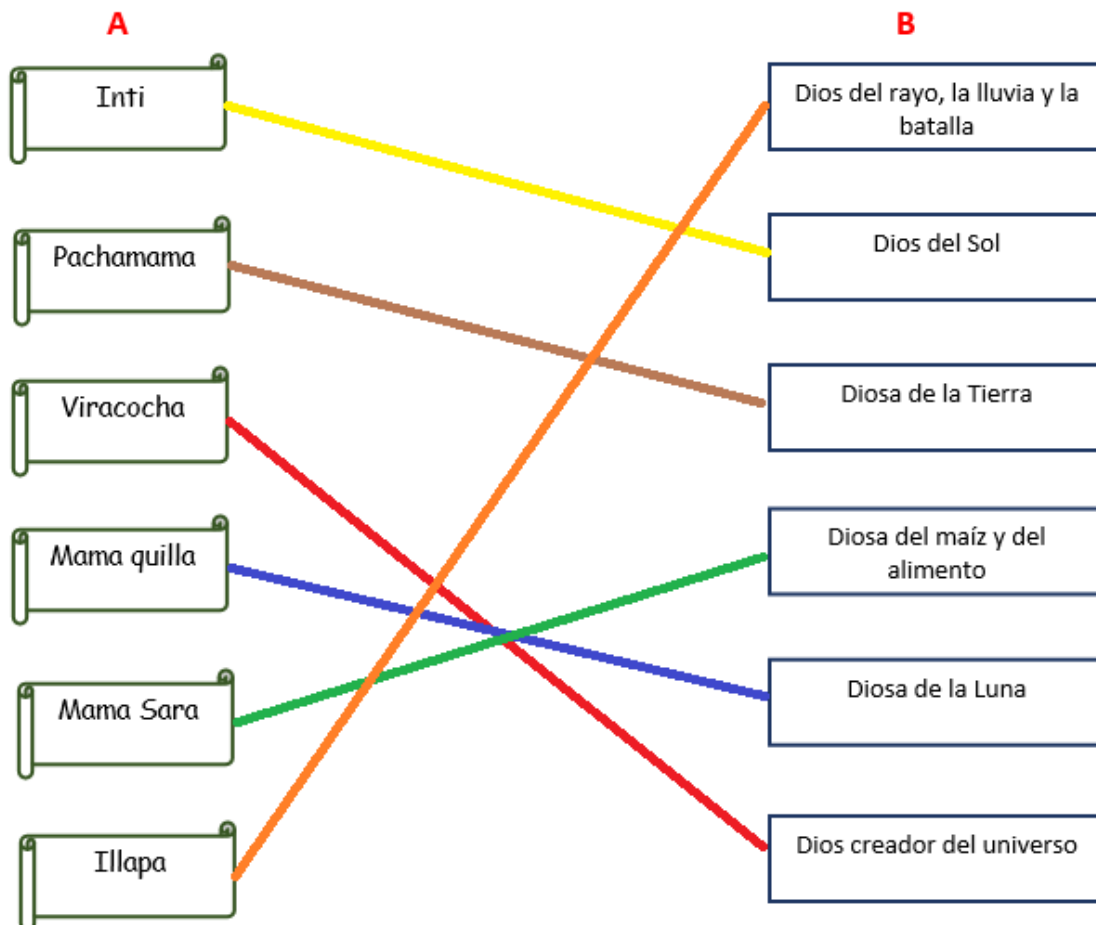
V Las Terrazas o Andenes fue una de las técnicas de cultivo utilizadas por los Incas.

F La religión Inca era de tipo Monoteísta, es decir, que creían en un solo Dios.



V El Océano Pacífico está ubicado al oeste del Imperio Inca.

V En lengua Quechua (idioma Inca) Tahuantinsuyo significa Cuatro Regiones.

- Investiga los nombres de los Dioses Incas que aparecen en la columna A y únelos con la función que le corresponde.



- Escoge a dos de los dioses nombrados anteriormente. Escribe sus nombres en cada recuadro y, de acuerdo a sus características, imagina cómo serían y dibújalos.

Nombre del Dios (a): <i>Ejemplo Pachamama</i>	Nombre del Dios (a): <i>Ejemplo Illapa</i>
	



Recuerda archivar esta guía de autoevaluación en tu carpeta.