

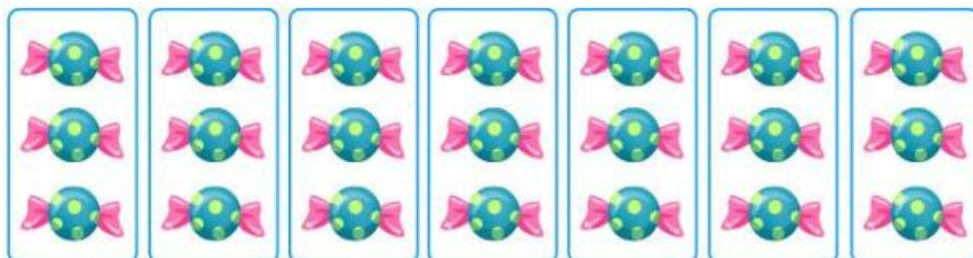
GUÍA 4 MATEMÁTICA
3° BÁSICO JUNIO 2021
AUTOEVALUACIÓN

NOMBRE: _____ CURSO: _____ FECHA: _____

A continuación, encontrarás las respuestas correctas de la Guía 4 de Matemática, con el propósito de que puedas revisar y corregir, junto a un adulto, el trabajo realizado.

Resuelve, completa y pinta:

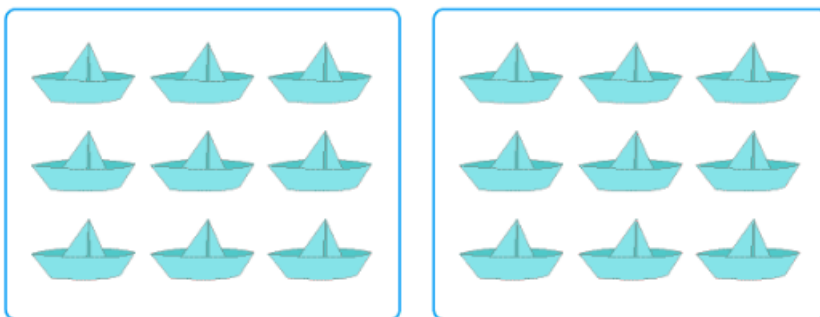
1.



7 veces 3 = ...21...

7 • 3 = ...21...

2.

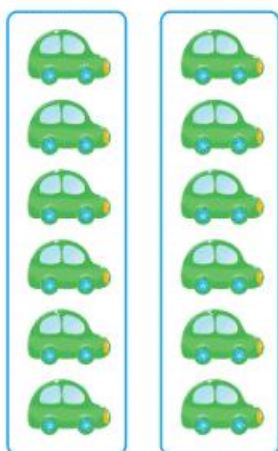


...9 + ...9 = ...18...

...2 veces ...9 = ...18...

...2 • ...9 = ...18...

3.

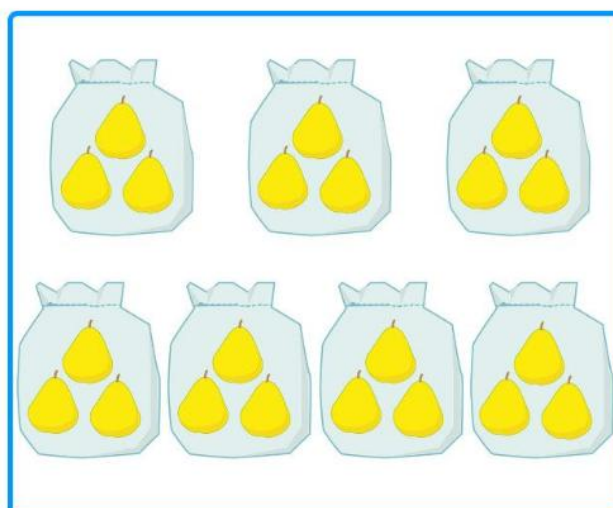


$$\dots 6 + 6 \dots = \dots 12 \dots$$

$$\dots 2 \text{ veces } 6 \dots = \dots 12 \dots$$

$$\dots 2 \cdot 6 \dots = \dots 12 \dots$$

4. Completa



$$\dots 3 + 3 + 3 + 3 + 3 + 3 + 3 \dots = \dots 21 \dots$$

$$\dots 7 \text{ veces } 3 \dots = \dots 21 \dots$$

$$\dots 7 \cdot 3 \dots = \dots 21 \dots$$

5.

$$\underline{4 + 4 + 4 + 4 + 4 + 4 + 4 + 4 + 4 = 36}$$

$$\underline{9 \text{ veces } 4 = 36}$$

$$\underline{9 \cdot 4 = 36}$$

6. Completa la tabla:

Adición	Nº de veces	Multiplicación	Producto
$7+7+7+7+7+7+7$	7 veces 7	$7 \cdot 7$	49
$9+9+9$	3 veces 9	$3 \cdot 9$	27
$7+7+7+7+7$	5 veces 7	$5 \cdot 7$	35
$9+9+9+9+9$	5 veces 9	$5 \cdot 9$	45

7. Resuelve:

a) Luis tiene en cada bandeja 3 sándwich, en cada bandeja como se muestra en la imagen.



¿Cuántos sándwich tiene en total?

$$4 \text{ veces } 3 = \dots\dots\dots 12 \dots\dots\dots$$

$$4 * 3 = \dots\dots\dots 12 \dots\dots\dots$$

Se reparten en total 12 sándwich.

b) Cada árbol tiene 5 manzanas



¿Cuántas manzanas hay en total?

$$\dots\dots 6 \dots\dots \text{veces} \dots\dots 5 \dots\dots = \dots\dots 30 \dots\dots$$

$$\dots\dots 6 \dots\dots * \dots\dots 5 \dots\dots = \dots\dots 30 \dots\dots$$

En total hay 30 manzanas.

c) **Desafío:** Encuentra un par de números que sumen 7 y su producto es 12.

Los números cuyo producto es 12:

$$6 * 2 = 12$$

$$2 * 6 = 12$$

$$1 * 12 = 12$$

$$3 * 4 = 12$$

De esos pares de números los únicos que suman 7 son; el 3 y 4.

Luego los números buscados son 3 y 4.