



GUÍA 3 MATEMÁTICA 1° BÁSICO MAYO 2021

NOMBRE: _____ CURSO: _____ FECHA: _____

OBJETIVO: OA1 Contar números naturales del 0 al 100, de 1 en 1, de 2 en 2, de 5 en 5 y de 10 en 10, hacia delante y hacia atrás, empezando por cualquier número menor que 100.

OA3 Leer números del 0 al 20 y representarlos de manera concreta, pictórica y simbólica.


CONTENIDO: Secuencias numéricas ascendentes de 1 en 1 y de 2 en 2 en ámbito numérico del 0 al 10.

-Representación gráfica de numerales.


Actividad:

1- Completa las secuencias con los números que faltan











• 1 en 1



• 2 en 2



2- Une la cantidad de elementos con el número que corresponde.

	6
	9
	4
	8
	10
	5
	2
	1
	7
	3