



## GUÍA Nº2 CIENCIAS NATURALES

2° BÁSICO ABRIL 2021

Nombre: \_\_\_\_\_ Curso: \_\_\_\_\_ Fecha: \_\_\_\_\_

**Objetivo OA 7:** Identificar la ubicación y explicar la función de algunas partes del cuerpo que son fundamentales para vivir: corazón, pulmones y estómago.

**Contenido:** Órganos internos del cuerpo humano.

**Actividad:** Completar y responder comprensivamente.

### 1. Une el órgano con su función principal:



- Permiten el ingreso de aire al organismo.

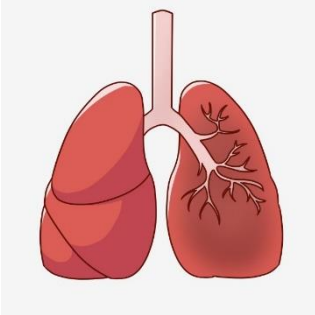


- Permite que el alimento se transforme en pequeñas sustancias.



- Bombea sangre a cada parte del cuerpo.

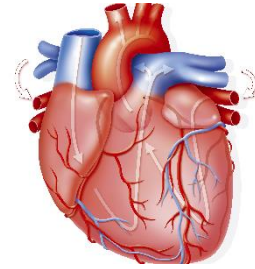
2. Escribe el nombre de cada órgano, según corresponda:



\_\_\_\_\_

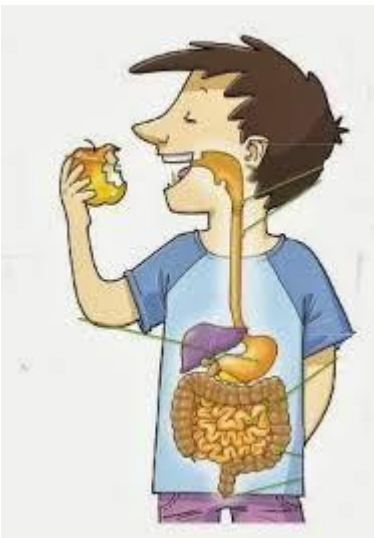


\_\_\_\_\_



\_\_\_\_\_

3. Observa la imagen y responde:



¿Cuál de las siguientes opciones explica lo representado en el modelo?

- a. El ingreso del aire al organismo.
- b. El transporte de la sangre en el cuerpo.
- c. La transformación de los alimentos.



4. Lee y responde:

Miguel es un niño de 7 años que pasa la mayor parte del tiempo jugando en el computador. Cada vez que sale a pasear, prefiere ir en bus en vez de caminar.

¿Crees que este niño mantiene un estilo de vida saludable?, ¿Por qué?

---

---

---

---



**Recuerda archivar esta guía en tu carpeta**