






GUÍA 2 TALLER DE MANUALIDADES
4° BÁSICO ABRIL 2021
AUTOEVALUACIÓN

NOMBRE: _____ CURSO: _____ FECHA: _____

Estimado /a estudiante: A continuación se presentan los aspectos a evaluar de tu trabajo.

Responde marcando con **X** la respuesta que crees que corresponde al trabajo que realizaste de Maqueta de Pirámide Maya:

Indicadores	L 	M/L 	N/L 
Realiza Maqueta de Pirámide Maya utilizando material reciclable.			
La pirámide cumple con su principal característica (es escalonada).			
La maqueta confeccionada es similar a la pirámide seleccionada en las imágenes.			
Pinta la pirámide de acuerdo a su color original.			
Pega la pirámide sobre otro cartón más grande.			
Decora su maqueta con vegetación alrededor de la pirámide.			
Escribe el nombre de la pirámide, ciudad y país al que pertenece.			
Trabaja de forma individual, responsablemente y sin ayuda de un adulto (a excepción de la ayuda recibida para cortar cartón).			
Escribe sus datos personales en la orilla del cartón (nombre, apellido y curso).			
Envía una foto de su trabajo a través de Classroom cuando la profesora lo pide.			