



GUÍA 2 MATEMÁTICA 3° BÁSICO ABRIL 2021 AUTOEVALUACIÓN

NOMBRE:CURSO:FECHA:

A continuación están las respuestas correctas de la Guía 2, compara con tu guía, si te equivocaste, corrige.

ACTIVIDADES

1. Escribir de 3 en 3 **hacia adelante**, comenzando por:

a. 71 74 77 80 83 86 89 92

b. 34 37 40 43 46 49 52 55

2. Escribe el número representado:

Ejemplo:

322

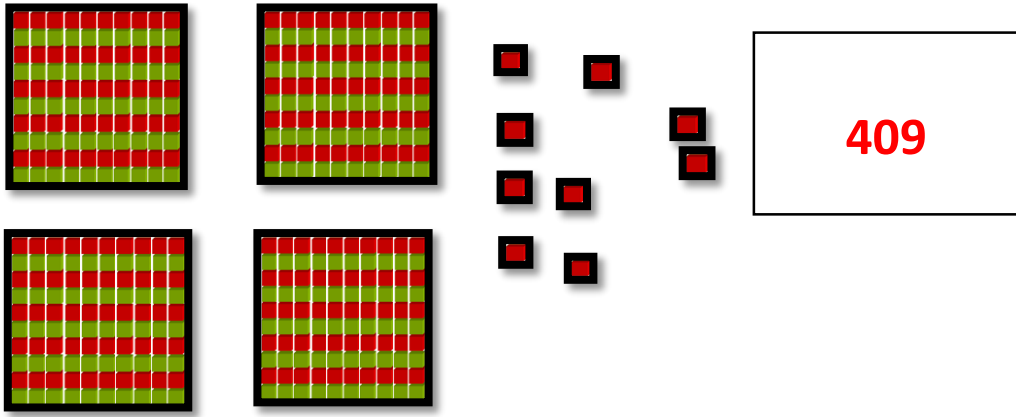
3 CENTENAS
+
2 DECENAS
+
2 UNIDADES

A.

165

1 CENTENAS
+
6 DECENAS
+
5 UNIDADES

B.




409

4 CENTENAS 0 DECENAS + 9 UNIDADES

3. Representa cada cifra:

a)


673



6 CENTENAS + 7 DECENAS + 3 UNIDADES

b)

434



4 CENTENAS + 3 DECENAS + 4 UNIDADES

4. Representa los números en la tabla posicional

a) 637 b) 430 c) 504 d) 65

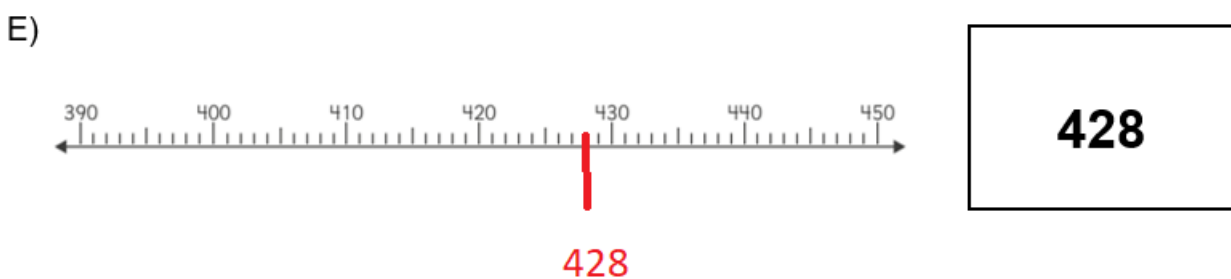
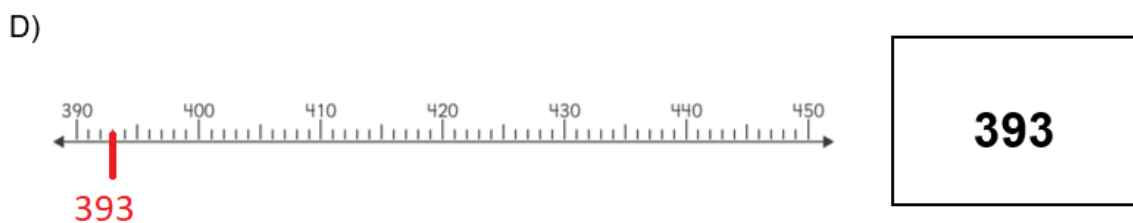
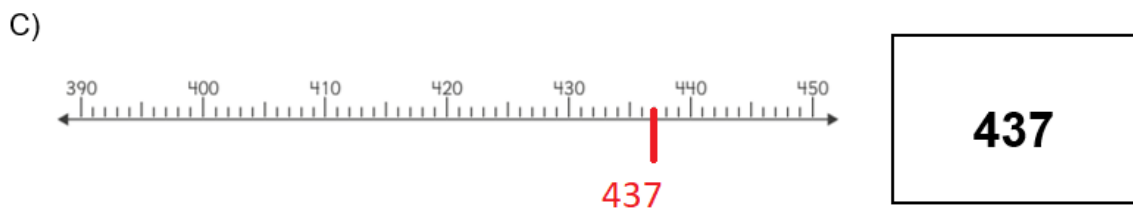
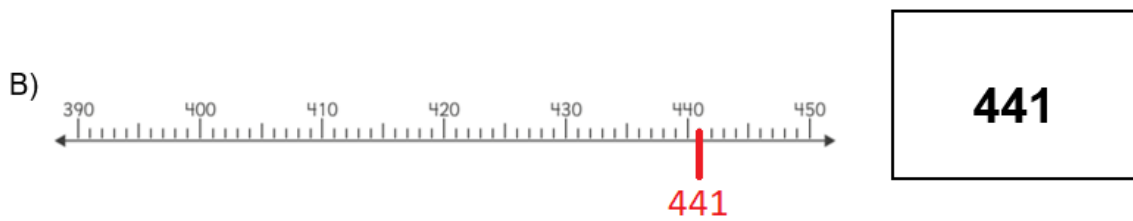
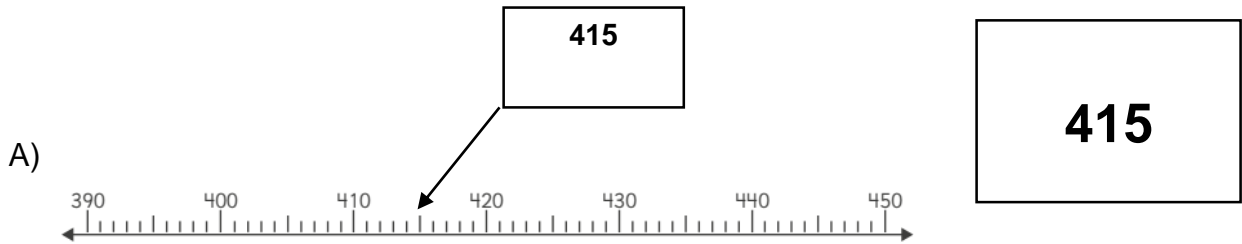
C	D	U
6	3	7
4	3	0
5	0	4
	6	5



5. Escribe el número que se forma

	C	D	U
a) $8D + 4U + 5C =$	5	8	4
b) $7C + 6D =$	7	6	0
c) $6C + 4U =$	6	0	4
d) $8D + 5U + 1C =$	1	8	5

6. Marca con una flecha sobre la recta el número indicado, ejemplo:





Igual	Mayor que	Menor que
=	>	<

7. Compara cada par de números y completa con los símbolos



415 <u> </u> 415	392 <u> </u> 378	855 <u> </u> 197
356 <u> </u> 523	694 <u> </u> 694	135 <u> </u> 721
99 <u> </u> 100	826 <u> </u> 173	926 <u> </u> 725
265 <u> </u> 126	445 <u> </u> 446	235 <u> </u> 235