

**GUÍA 2 HISTORIA, GEOGRAFÍA Y CIENCIAS SOCIALES
4° BÁSICO ABRIL 2021
AUTOEVALUACIÓN**

NOMBRE: _____ CURSO: _____ FECHA: _____

Querido /a Estudiante:

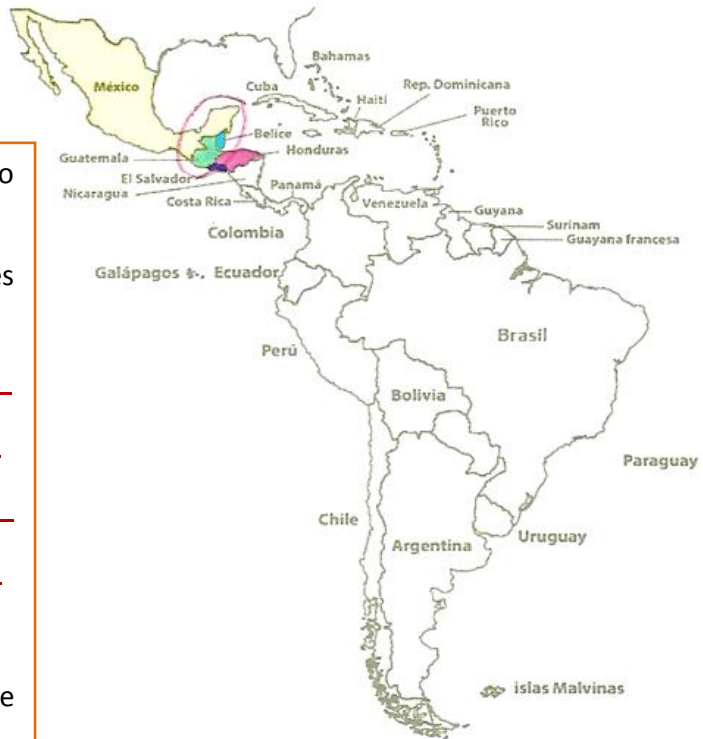
A continuación se presentan las respuestas correctas de la Guía 2 de Historia, Geografía y Ciencias Sociales para que puedas revisar y/o corregir tu trabajo.

Recuerda que puedes repasar o reforzar los contenidos estudiados, con apoyo de tu texto escolar o ingresando al link:

<https://mitextoescolar.mineduc.cl/>

ACTIVIDADES

- Observar el mapa y responder siguiendo las instrucciones.



- Encerrar en un círculo de color rojo la Península de Yucatán.

- Nombrar y pintar los países actuales donde se ubicaron los Mayas:

* Sur de México

* Guatemala

* Belice

* El Salvador

* Honduras

- Chile se ubica al Sur de Mesoamérica o América Central.

- Con la ayuda de un atlas averigua, ¿qué mar u océano rodea la Península de Yucatán?

Mar Caribe

- Marcar con una X la alternativa correcta.

1. **d** 2. **a**
 3. **c** 4. **c**
 5. **a** 6. **d**

- Completar, respondiendo con letra clara y ordenada.

- La técnica de cultivo más importante para el desarrollo de la agricultura fue:

La Tala y roza.

- Entre las ciudades se realizaba el comercio a través de:

El trueque o cambio.

- ¿Qué utilizaban como monedas al momento de comercializar un producto?

Semillas de cacao.


- Señala al menos dos actividades a las que se dedicaban las mujeres mayas:

Elaborar productos de cerámica.

Agricultura.

- Dibujar en los recuadros el proceso de tala y roza desarrollado por los Mayas.

TALA




ROZA (quema de vegetación)



SIEMBRA



COSECHA



Recuerda archivar esta guía de autoevaluación en tu carpeta.