












GUÍA N° 1 MATEMÁTICA 6° BÁSICO MARZO 2021

Nombre: _____ Curso: _____ Fecha: _____ MARZO 2021

Realiza las actividades con la información de la tabla.

| Cantidad de habitantes por cada país (2013) | | |
|---|---|--|
|  Estados Unidos 318.900.000 |  Australia 23.130.000 |  Brasil 200.400.000 |
|  Rusia 143.500.000 |  China 1.357.000.000 |  Canadá 35.160.000 |
|  Chile 17.620.000 |  México 122.300.000 |  Francia 66.030.000 |

I.- Ordena y escribe los países de menor a mayor población, observando los datos que se entregan en la imagen

1. _____
2. _____
3. _____
4. _____
5. _____
6. _____
7. _____
8. _____
9. _____



II.- Escribe con palabras la población de cada país

Australia: _____

Brasil: _____

Estados Unidos: _____

Rusia: _____

China: _____

Canadá: _____

Chile: _____

México: _____

Francia: _____
