










GUÍA N° 1 MATEMÁTICA

6° BÁSICO MARZO 2021

AUTOEVALUACIÓN

Nombre: _____ Curso: _____ Fecha: _____ MARZO 2021

Realiza las actividades con la información de la tabla.

Cantidad de habitantes por cada país (2013)		
 Estados Unidos 318.900.000	 Australia 23.130.000	 Brasil 200.400.000
 Rusia 143.500.000	 China 1.357.000.000	 Canadá 35.160.000
 Chile 17.620.000	 México 122.300.000	 Francia 66.030.000

I.- Ordena y escribe los países de menor a mayor población, observando los datos que se entregan en la imagen

1. ____ CHILE.
2. ____ AUSTRALIA.
3. ____ CANADÁ.
4. ____ FRANCIA.
5. ____ MÉXICO.
6. ____ RUSIA.
7. ____ BRASIL.
8. ____ ESTADOS UNIDOS.
9. ____ CHINA.



II .- Escribe con palabras la población de cada país

Australia: Veintitrés millones ciento treinta mil.

Brasil: Doscientos millones cuatrocientos mil.

Estados Unidos: Trescientos dieciocho millones novecientos mil.

Rusia: Ciento cuarenta y tres millones quinientos mil.

China: Mil trescientos cincuenta y siete millones.

Canadá: Treinta y cinco millones ciento sesenta mil.

Chile: Diecisiete millones seiscientos veinte mil.

México: Ciento veintidós millones trescientos mil.

Francia: Sesenta y seis millones treinta mil.