



AUTOEVALUACIÓN

GUÍA N°1 MATEMÁTICA

3° BÁSICO MARZO 2021

NOMBRE:.....CURSO:.....FECHA:.....

Revisa tus ejercicios, si están correctos:

¿QUÉ ES EL VALOR POSICIONAL?

El valor posicional es el valor que toma un dígito de acuerdo con la posición que ocupa dentro del número (unidades, decenas, centenas).

Si observamos el número **641** está compuesto por:

centenas	decenas	unidades
↙	↑	↘
6	4	1

$600 + 40 + 1$

Recuerda que...

- 1 centena = 100
- 1 decena = 10
- 1 unidad = 1

El valor posicional de los números puede representarse usando los **BLOQUES MULTIBASES**.

El **641** se representa de la siguiente forma:

6	4	1
↙	↓	↓

= 1.000
 = 100
 = 10
 = 1



1. Representa los números en la tabla posicional y escribe como se lee cada cifra. **Ejemplo: 589.**

a) 437, b) 130, c) 54, d) 190, e) 673

	C	D	U	Se lee
	5	8	9	Quinientos ochenta y nueve.
a	4	3	7	Cuatrocientos treinta y siete.
b	1	3	0	Ciento treinta.
c		5	4	Cincuenta y cuatro
d	1	9	0	Ciento noventa.
e	6	7	3	Seiscientos setenta y tres.

2. Escribe con números las siguientes cifras.





Ejemplo:

	C	D	U
Cuatrocientos treinta y nueve	4	3	9
a. Quinientos dieciséis	5	1	6
b. Doscientos tres	2	0	3
c. Novecientos catorce	9	1	4
d. Setecientos quince	7	1	5
e. Trescientos cuarenta y cinco	3	4	5









3. Observa:

Valor de bloques multibase

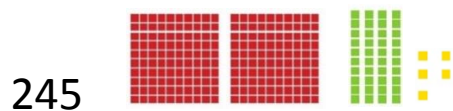
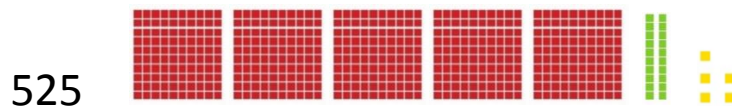

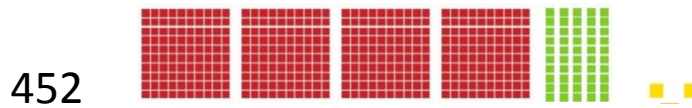
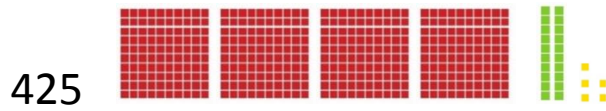
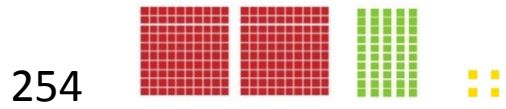
 = 1000  = 100  = 10  = 1

Escribe el número que representa

			346
3 CENTENAS +	4 DECENAS +	6 UNIDADES	
			169
1 CENTENA	6 DECENAS	9 UNIDADES	



4. Escribe y representa todos los números de tres cifras que se puedan formar con esto





5. Escribir de 10 en 10 **hacia adelante**, comenzando por:

a. 165

175

185

195

205

215

225

 235.

b. 140

150

160

170

180

190

200

 210.

c. 270

280

290

300

310

320

330

 340

6. Escribir de 2 en 2 **hacia atrás**, comenzando por:

a. 194

192

190

188

186

184

182

 180.

b. 70

68

66

64

62

60

58

 56

c. 240

238

236

234

232

230

228

 226